

1. Возачи бицикала у ситуацији на слици, крећу се:
- а) непрописно
 - б) прописно
 - ц) дужни су да се крећу коловозом уз десну ивицу коловоза 4

2. У ситуацији на истој слици, возач путничког аутомобила:
- а) дужан је да пропусти возаче бицикала
 - б) није дужан да пропусти возаче бицикала
 - ц) има првенство пролаза у односу на возаче бицикала, а возачи бицикала су дужни да се зауставе 4



3. Посебно изграђена стаза обележена саобраћајним знаком, у ситуацији на слици, значи да је то:
- а) бицикличка стаза
 - б) пешачка стаза
 - ц) тротоар 4

4. Возач путничког аутомобила, у ситуацији на истој слици, прописно скреће улево ако се креће путањом :
- а) 1
 - б) 2
 - ц) 3 3



5. Возач жутог путничког аутомобила претиче мотоцикл у ситуацији на слици, на раскрсници, на којој је претицање мотоцикла:
- а) дозвољено
 - б) забрањено правилима саобраћаја 4
 - ц) забрањено саобраћајним знаком

6. У ситуацији на истој слици, путнички аутомобил и мотоцикл крећу се:
- а) путем који се укршта са путем са првенством пролаза
 - б) путем са првенством пролаза 4
 - ц) путем исте важности као и пут са којим се укршта ...

7. Бицикличка трака је саобраћајна трака намењена искључиво за саобраћај:
- а) само бицикла
 - б) бицикла и мотоцикла
 - ц) бицикла, мопеда и лаког трицикла 2



Call Centar: 0800 009 009
 Centrala: 011 30 84 900
 Ruzveltova 16, Beograd
 info@ams.co.rs
 www.ams.co.rs

TRADICIJA SIGURNOSTI



Putno zdravstveno osiguranje

8. Државни пут намењен искључиво за саобраћај мотоцикала, путничких возила, теретних возила и аутобуса, са или без прикључних возила и као такав обележен прописаним саобраћајним знаком је:

- а) аутопут
- б) мотопут
- ц) противпожарни пут

<input type="checkbox"/>
<input type="checkbox"/>
<input type="checkbox"/>

②


9. Возачу путничког аутомобила, претицање теретног возила у ситуацији на слици је:

- а) дозвољено
- б) забрањено правилима саобраћаја
- ц) забрањено ознакама на коловозу

<input type="checkbox"/>
<input type="checkbox"/>
<input type="checkbox"/>

③

10. Возач путничког аутомобила, у ситуацији на истој слици, на своме возилу:

- а) мора да укључи дневна, односно кратка светла, само ноћу
- б) мора да укључи дневна, односно кратка светла, и по дану
- ц) не мора да укључи дневна, односно кратка светла на путу ван насеља по дану

<input type="checkbox"/>
<input type="checkbox"/>
<input type="checkbox"/>

②


11. Возач путничког аутомобила у ситуацији на слици врши скретање удесно:

- а) прописно
- б) непрописно
- ц) прописно, али тек пошто пропусти возача мотоцикла

<input type="checkbox"/>
<input type="checkbox"/>
<input type="checkbox"/>

③

12. Возач теретног возила у ситуацији на истој слици врши скретање улево:

- а) прописно
- б) непрописно
- ц) прописно, ако се креће уз леву ивицу коловоза

<input type="checkbox"/>
<input type="checkbox"/>
<input type="checkbox"/>

③


13. Редослед проласка возила на раскрсници у ситуацији на слици је следећи:

- а) аутобус, зелени путнички аутомобил и возило полиције
- б) возило полиције, зелени путнички аутомобил и аутобус
- ц) возило полиције, аутобус и зелени путнички аутомобил

<input type="checkbox"/>
<input type="checkbox"/>
<input type="checkbox"/>

③

14. У ситуацији на истој слици, првенство пролаза је регулисано:

- а) светлосним саобраћајним знаком
- б) ознакама на коловозу
- ц) правилима саобраћаја

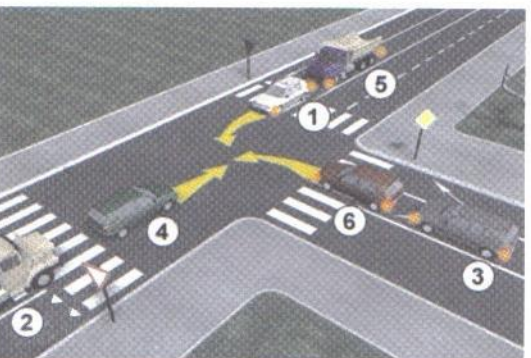
<input type="checkbox"/>
<input type="checkbox"/>
<input type="checkbox"/>

③

15. Возач путничког аутомобила (6) у ситуацији на слици, приликом скретања улево:

- а) има првенство пролаза у односу на сва возила у раскрсници
- б) дужан је да пропусти путничке аутомобила (4), (2), (1) и теретно возило (5)
- ц) дужан је да пропусти само путнички аутомобил (1) и теретно возило (5)

<input type="checkbox"/>
<input type="checkbox"/>
<input type="checkbox"/>

③


16. У путничком аутомобилу на предњем седишту не сме да се превози дете млађе од:

- а) 7 година
- б) 9 година
- ц) 12 година


<input type="checkbox"/>
<input type="checkbox"/>
<input type="checkbox"/>

③



17. Возач теретног возила у ситуацији на слици, обилази аутобус који стоји на стајалишту, на месту на коме му је обилажење:
- а) забрањено правилима саобраћаја
 - б) дозвољено, али мора да управља возилом тако да не угрожава лица која у то возило улазе или излазе
 - ц) забрањено ознакама на коловозу **3**

18. Брзина кретања возила на путу, у ситуацији на слици, ограничена је на:
- а) 60 km/h
 - б) 80 km/h
 - ц) 100 km/h **3**



19. Возач трамваја у ситуацији на слици:
- а) има првенство пролаза у односу на сва возила
 - б) дужан је да пропусти сва возила
 - ц) дужан је да пропусти само возило полиције **3**

20. Првенство пролаза у ситуацији на истој слици регулисано је:
- а) ознакама на коловозу
 - б) правилима саобраћаја
 - ц) саобраћајним знаковима **3**

21. Уздужни део коловоза намењен за саобраћај возила у једном смеру, назива се:
- а) саобраћајна трака
 - б) коловоз
 - ц) коловозна трака **3**



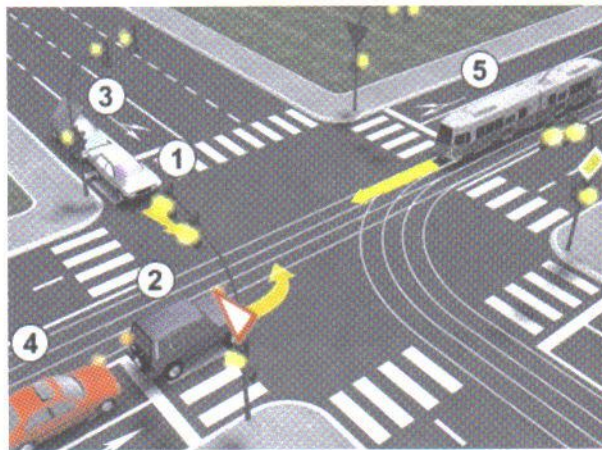
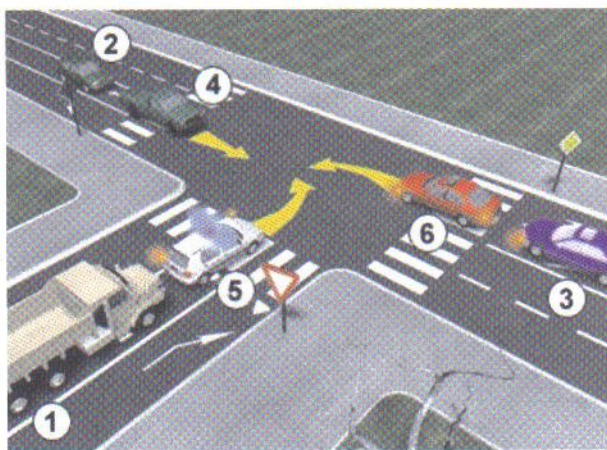
22. Десна рука подигнута вертикално са дланом отворене шаке усмереним према лево - значи:
- а) да возачи смање брзину кретања свога возила
 - б) дозвољен пролаз само возилима која му долазе са бочних страна
 - ц) забрану пролаза за све возаче, осим за оне возаче чија се возила у часу када полицијски службеник подигне руку, не могу на безбедан начин зауставити **4**



23. За возила под пратњом у ситуацији на слици, одредба закона о забрани пресецања колоне пешака се:
- а) примењује
 - б) примењује према ситуацији
 - ц) не примењује **3**

24. Возила под пратњом, у ситуацији на истој слици, приликом сусрета са возилима са првенством пролаза:
- а) немају првенство пролаза
 - б) имају првенство пролаза у односу на возило са првенством пролаза
 - ц) дужна су да се зауставе и уступе првенство пролаза **3**

25-26. У поља испод слике упиши бројеве који се налазе поред возила по редоследу проласка кроз раскрсницу:



5

5

			27. Саобраћајни знак "кривина налево" је знак обележен словом: А <input type="text"/> Б <input type="text"/> В <input type="text"/> 3
			28. Саобраћајни знак "опасан успон" је знак обележен словом: А <input type="text"/> Б <input type="text"/> В <input type="text"/> 3
			29. Саобраћајни знак "забрана саобраћаја за бицикле" је знак обележен словом: А <input type="text"/> Б <input type="text"/> В <input type="text"/> 3
			30. Саобраћајни знак "најмање дозвољена брзина" је знак обележен словом: А <input type="text"/> Б <input type="text"/> В <input type="text"/> 3
			31. Саобраћајни знак "завршетак саобраћајне траке за спора возила" је знак обележен словом: А <input type="text"/> Б <input type="text"/> В <input type="text"/> 3

НАШИ ПРИЈАТЕЉИ!

_____ (Стартни број, име и презиме)

_____ (Назив-разред/школа/екипа)

100- Негативних Поена = УКУПНО Поена



CIP - Каталогизација у публикацији Народна библиотека Србије, Београд

ISBN:978-86-905477-6-0
COBISS.SR-ID 205145612